




ATIVIDADES DAS OLÍMPIADAS



Autora: Iracema Cerdán Zavaleta Galves
Revisão: Elizabeth Simpício de Oliveira
Diagramação: Canva
Publicação: maio/2024



<https://www.instagram.com/mardoconhecimento/>

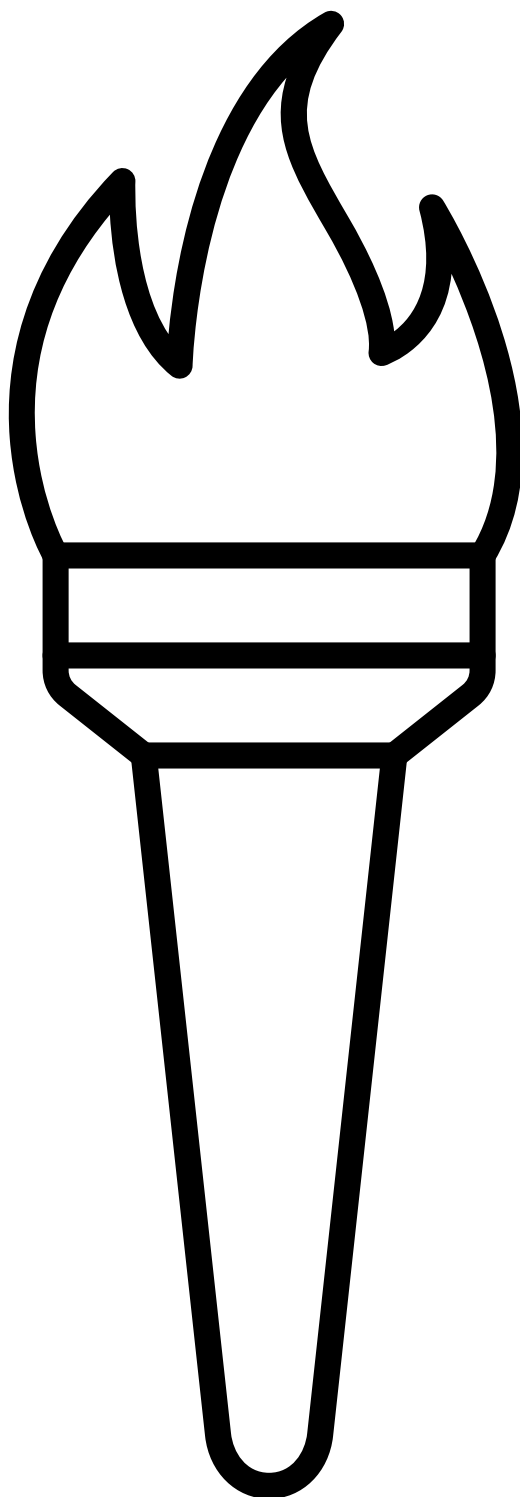


<https://pt-br.facebook.com/MarDoConhecimentoNoFace/>



<https://youtube.com/c/MardoConhecimento>

RASGUE PAPÉIS AMARELOS E LARANJAS EM PEDACINHOS PEQUENOS. COLE-OS NA TOCHA, REPRESENTANDO O FOGO. PINTE O RESTANTE DO DESENHO COM TINTA.



TOCHA OLÍMPICA

COLE BARBANTE NAS LINHAS DA BICICLETA.
PINTE O CICLISTA COM CAPRICHOS.




CICLISMO

COM O DEDO MOLHADO NA TINTA AZUL, CONTORNE AS ONDAS DA PISCINA. PINTE A NADADORA COM CAPRICHOS.




NATAÇÃO

FAÇA UMA BOLINHA COM PAPEL CREPOM.
COLE-A EM CIMA DA BOLA DE TÊNIS.
PINTE A TENISTA COM CAPRICHOS.



TÊNIS

COLE UM PALITO DE DENTE NA ESPADA.
PINTE O ESGRIMISTA COM CAPRICHOS.



ESGRIMA

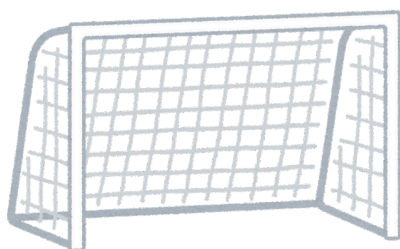
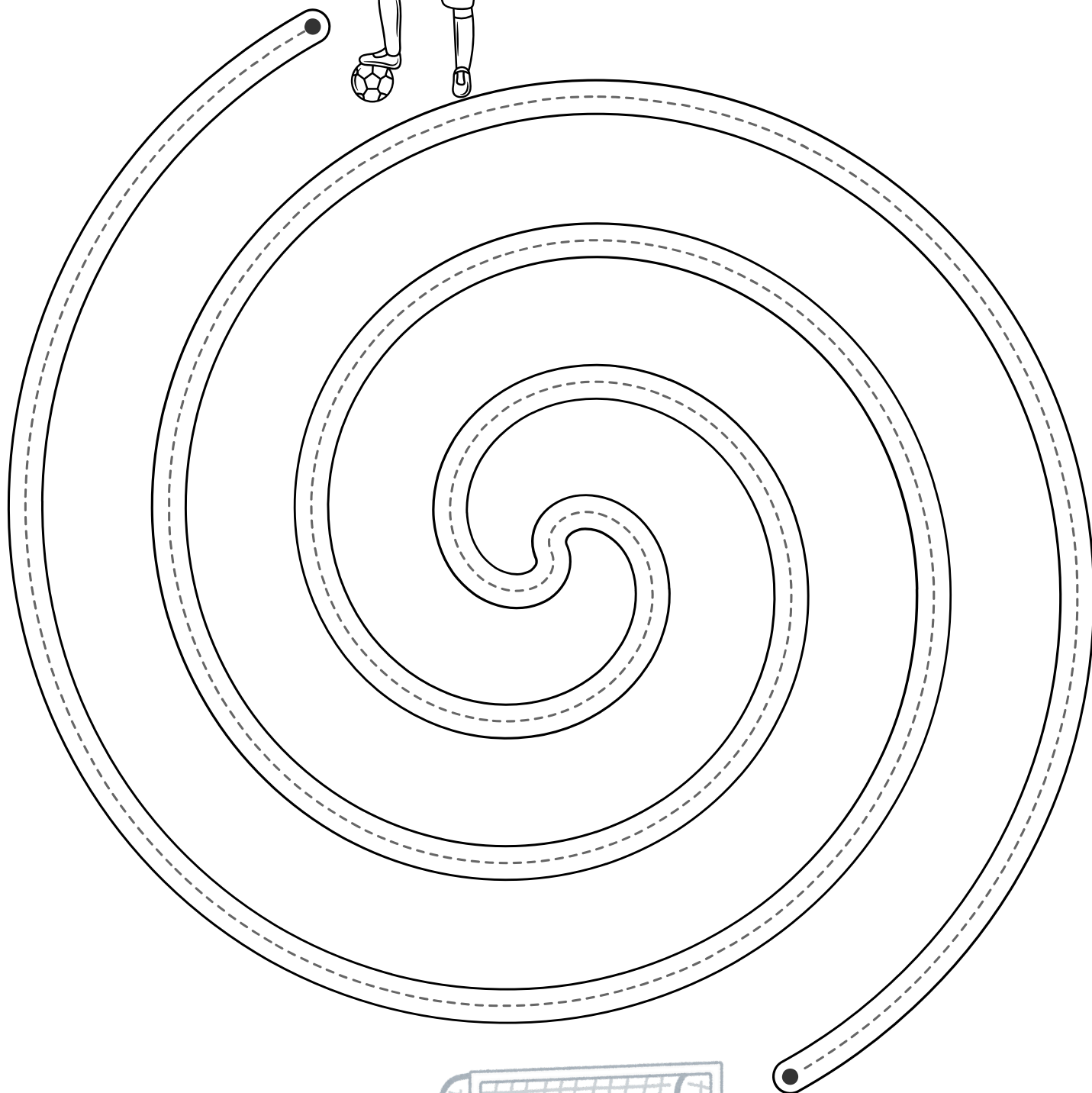
CONTORNE O BAMBOLÊ COM COLA COLORIDA.
PINTE A GINASTA COM CAPRICHOS.



GINÁSTICA
RÍTMICA





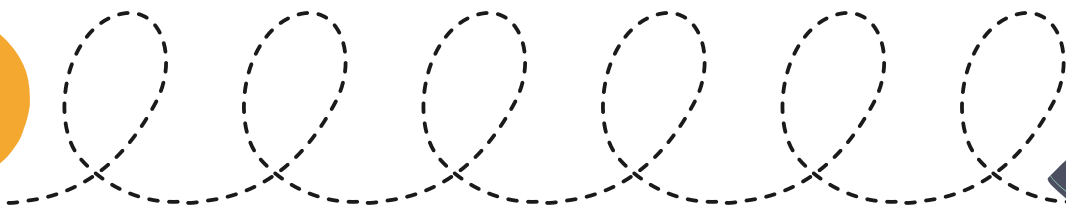

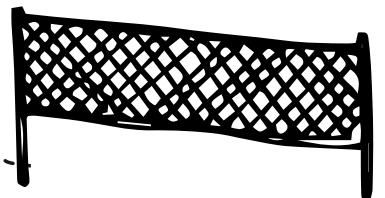
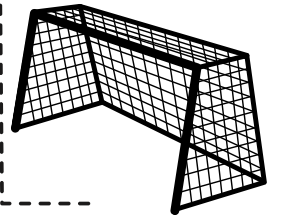
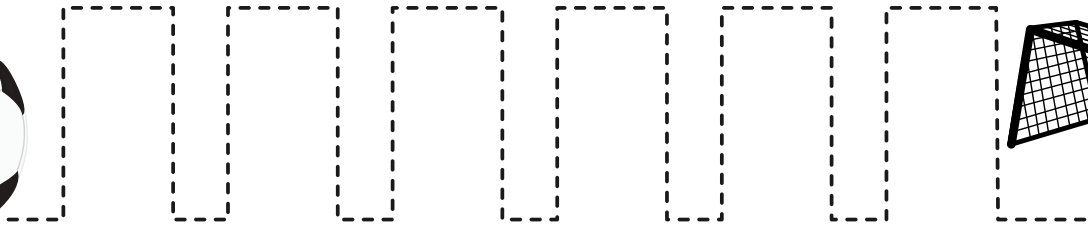

COORDENAÇÃO MOTORA

AJUDE O JOGADOR DE FUTEBOL A LEVAR A BOLA ATÉ O GOL
SEGUINDO AS LINHAS PONTILHADAS.







COORDENAÇÃO MOTORA FINA

LEVE AS BOLAS A SEU LUGAR COBRINDO OS TRACEJADOS.




BOLAS



VÔLEI

RECORTE NAS LINHAS VERTICAIS. EMBARALHE AS PARTES CORTADAS E COLE-AS, NA ORDEM, EM SEU CADERNO .



VAMOS CONTAR!

CONTE AS DIFERENTES BOLAS E ANOTE A QUANTIDADE CORRETA NO ESPAÇO ADEQUADO.



ADIÇÃO

CONTE, ADICIONE E MARQUE A SOMA NO QUADRADO.

$$\begin{array}{|c|} \hline \text{3 bolas} \\ \hline \end{array} + \begin{array}{|c|} \hline \text{4 bolas} \\ \hline \end{array} = \square$$

$$\begin{array}{|c|} \hline \text{1 bola} \\ \hline \end{array} + \begin{array}{|c|} \hline \text{2 bolas} \\ \hline \end{array} = \square$$

$$\begin{array}{|c|} \hline \text{5 bolas} \\ \hline \end{array} + \begin{array}{|c|} \hline \text{1 bola} \\ \hline \end{array} = \square$$

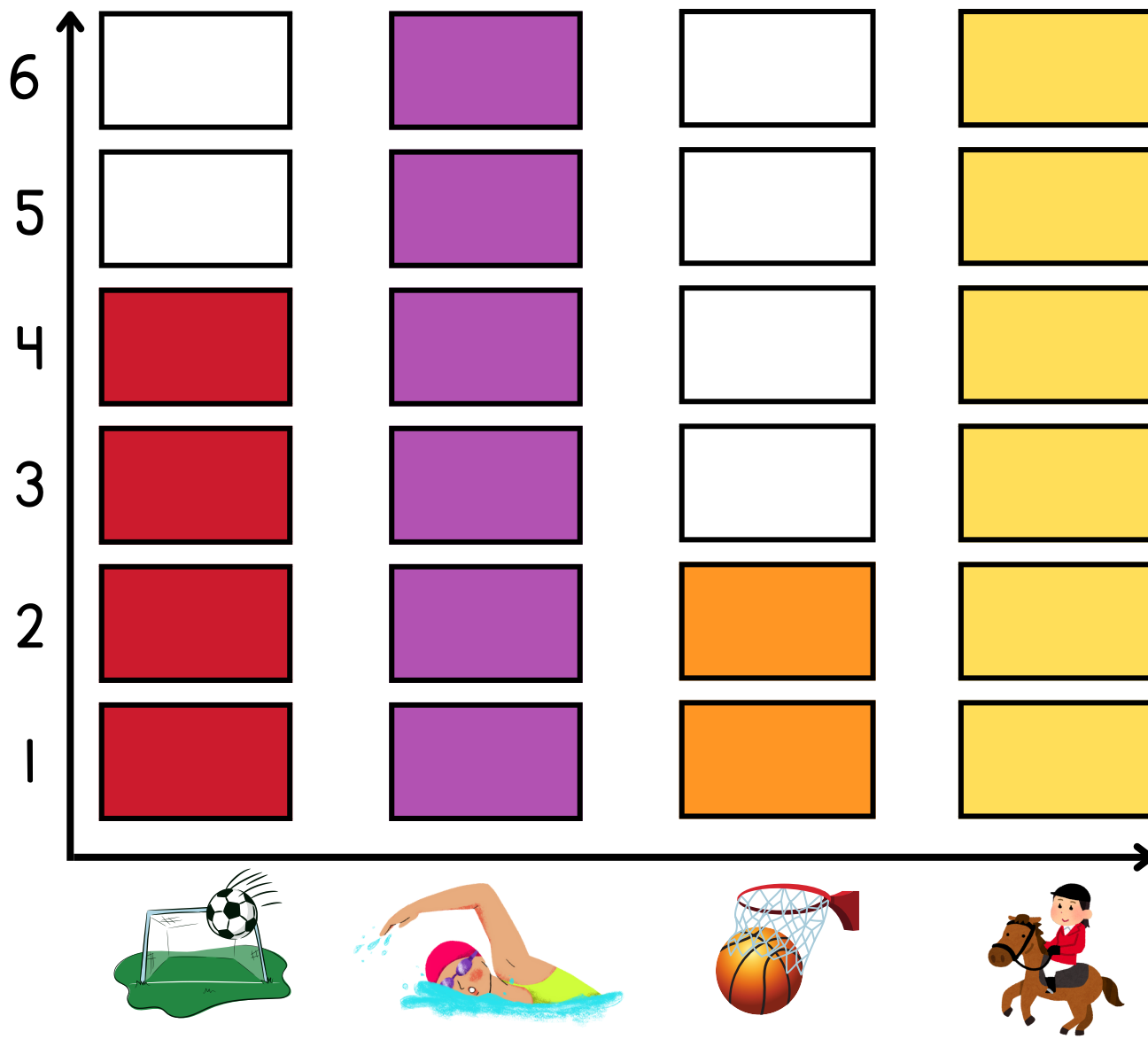
$$\begin{array}{|c|} \hline \text{2 bolas} \\ \hline \end{array} + \begin{array}{|c|} \hline \text{0 bolas} \\ \hline \end{array} = \square$$

$$\begin{array}{|c|} \hline \text{3 bolas} \\ \hline \end{array} + \begin{array}{|c|} \hline \text{5 bolas} \\ \hline \end{array} = \square$$

$$\begin{array}{|c|} \hline \text{2 bolas} \\ \hline \end{array} + \begin{array}{|c|} \hline \text{3 bolas} \\ \hline \end{array} = \square$$

GRÁFICO: ESPORTE FAVORITO

O GRÁFICO ABAIXO INDICA OS ESPORTES FAVORITOS DOS ALUNOS DE UMA CLASSE. OBSERVE-O E RESPONDA ÀS PERGUNTAS:



QUAL ESPORTE FOI O MENOS VOTADO?

QUANTAS PESSOAS VOTARAM NO HIPISMO?

QUANTAS PESSOAS PREFEREM FUTEBOL?

E VOCÊ? QUAL SEU ESPORTE FAVORITO?

FUTEBOL

VOCÊ ENTENDE DE FUTEBOL?

OBSERVE AS IMAGENS RELACIONADAS A ESTE ESPORTE E PINTE A PALAVRA QUE MELHOR A REPRESENTA.



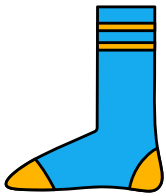
XÍCARA

TROFÉU



LOUSA

PLACAR



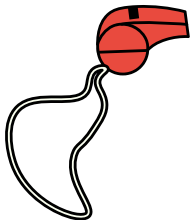
MEIÃO

LUVA



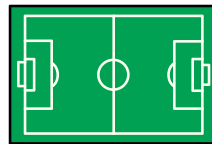
CHUTEIRAS

TÊNIS



CONE

APITO




CAMPO

ARENA



UNIFORME

AVENTAL




MEIAS

LUVAS



BONECA

BOLA



CARTÕES


BARALHO

ESPORTES


ESCREVA O NOME DO ESPORTE QUE CADA IMAGEM ESTÁ REPRESENTANDO - COLOQUE UMA LETRA EM CADA QUADRADO.




--	--	--	--	--	--	--



--	--	--	--	--



--	--	--	--	--	--	--



--	--	--	--



ESPORTES

CAÇA-PALAVRAS



V	S	O	B	A	S	Q	U	E	T	E	Q
G	O	L	F	A	D	U	A	C	O	A	F
S	O	L	U	M	D	G	S	B	T	S	U
C	I	C	L	I	S	M	O	O	T	N	T
B	S	O	M	E	E	Õ	E	L	Ê	E	E
H	O	C	K	E	Ç	N	T	U	N	T	B
H	C	S	E	N	Y	B	B	N	I	B	O
U	C	T	E	N	D	I	A	A	S	O	L
T	E	J	N	O	S	T	L	L	O	A	G
F	R	U	G	B	Y	U	L	G	L	F	F
Y	F	D	D	T	N	A	T	A	Ç	Ã	O
S	V	Ô	L	E	I	A	L	L	O	O	T

JUDÔ

GOLF

TÊNIS

FUTEBOL

CICLISMO

NATAÇÃO

VÔLEI

BASQUETE

PROBLEMAS MATEMÁTICOS



1

UM JOGO DE BASQUETE É DIVIDIDO EM 4 PERÍODOS. SE UM TIME FEZ 32 PONTOS NO PRIMEIRO PERÍODO, 40 NO SEGUNDO, 22 NO TERCEIRO E 15 NO QUARTO. QUANTOS PONTOS FEZ AO TODO NA PARTIDA?

2

NAS OLIMPIADAS DE 2020, O BRASIL CONQUISTOU 7 MEDALHAS DE OURO, 6 DE PRATA E 8 DE BRONZE. AO TODO, QUANTAS MEDALHAS GANHOU?

PAÍSES


PINTE O NOME DO PAÍS REPRESENTADO POR CADA BANDEIRA.

 <input type="text" value="FRANÇA"/> <input type="text" value="URUGUAI"/>	 <input type="text" value="REINO UNIDO"/> <input type="text" value="CHINA"/>
 <input type="text" value="PORTUGAL"/> <input type="text" value="CHINA"/>	 <input type="text" value="ITÁLIA"/> <input type="text" value="BRASIL"/>
 <input type="text" value="ARGENTINA"/> <input type="text" value="URUGUAI"/>	 <input type="text" value="MÉXICO"/> <input type="text" value="ITÁLIA"/>
 <input type="text" value="TURQUIA"/> <input type="text" value="CHINA"/>	 <input type="text" value="PORTUGAL"/> <input type="text" value="ITÁLIA"/>
 <input type="text" value="JAPÃO"/> <input type="text" value="COREIA"/>	 <input type="text" value="TURQUIA"/> <input type="text" value="JAPÃO"/>



PAÍSES & NACIONALIDADES

COMPLETE A TABELA COM OS NOMES DOS PAÍSES E DAS SUAS RESPECTIVAS NACIONALIDADES.

BANDEIRAS	PAÍSES	NACIONALIDADES
	_____	_____
	_____	_____
	_____	_____
	_____	_____
	_____	_____
	_____	_____
	_____	_____
	_____	_____
	_____	_____

QUADRO DE MEDALHAS

ESCOLHA DEZ PAÍSES QUE ESTÃO PARTICIPANDO DAS OLIMPIADAS NESTE ANO. ANOTE O NÚMERO DE MEDALHAS QUE ELES GANHARAM.



PAÍS	MEDALHA DE OURO	MEDALHA DE PRATA	MEDALHA DE BRONZE	TOTAL

MEDALHA

USE A CRIATIVIDADE E CRIE A SUA PRÓPRIA MEDALHA OLÍMPICA
USANDO MATERIAIS DIVERSOS.





**Se quiser vídeos complementares sobre o tema,
acesse nosso conal no YouTube:**

Jogos olímpicos: <https://youtu.be/D6pdLMNplvM>

Quiz: https://youtu.be/Jp_uKllGUOw

**Se gostou do material e quiser contribuir,
faça uma doação para o PIX e-mail
iracema.cerdan@gmail.com.**

**Nós precisamos de apoio para manter o site e
continuar produzindo material de qualidade.**